


|   |   |  |
|---|---|--|
|  | <p>Proceso selectivo para la<br/>Provisión, mediante acceso libre,<br/>de una plaza ITOP</p> <p>2023-RHSEL-06</p> | <p>Plantilla<br/>Respuestas<br/>Primer Ejercicio</p> <p>20/11/2024</p> |
|---|---|--|

## PLAZO DE ALEGACIONES: DEL 21 AL 27 DE NOVIEMBRE

1. *Los actos del Rey serán refrendados por:*
  - a) **El Presidente del Gobierno y, en su caso, por los Ministros competentes**
  - b) Las Cortes Generales
  - c) El Presidente del Congreso
  
2. *La Constitución Española, en su artículo 67, establece, en relación con los miembros de las Cortes Generales, que:*
  - a) **Nadie podrá ser miembro de las dos Cámaras simultáneamente.**
  - b) Únicamente los miembros del Gobierno podrán ser miembros de las dos Cámaras simultáneamente.
  - c) Los portavoces de los Grupos Parlamentarios podrán ser miembros de las dos Cámaras simultáneamente.
  
3. *Según el artículo 108 de la Constitución Española, ¿cómo responde el Gobierno de su gestión política?:*
  - a) Individualmente ante las Cámaras.
  - b) **Solidariamente ante el Congreso de los Diputados.**
  - c) Solidariamente ante las Cortes Generales.
  
4. *Según el artículo 137 de la Constitución Española, ¿cómo se organiza territorialmente el Estado?*
  - a) **En municipios, provincias y en Comunidades Autónomas que se constituyan.**
  - b) En municipios, provincias, territorios insulares y en Comunidades Autónomas que se constituyan.
  - c) En administraciones locales y administraciones autonómicas.
  
5. *Según Constitución Española en su artículo 153, indicar cual es el órgano responsable del control relativo a la constitucionalidad de sus disposiciones normativas con fuerza de ley:*
  - a) **El Tribunal Constitucional.**
  - b) El Gobierno, previo dictamen del Consejo de Estado.
  - c) El Tribunal de Cuentas
  
6. *Según el artículo 11 de la Ley Reguladora de las Bases del Régimen Local, ¿cuáles son los elementos que constituyen el Municipio?:*
  - a) El territorio, la organización y la economía.

|  |   |  |
|--|---|--|
|  <p>AYUNTAMIENTO DE<br/><b>San Sebastián<br/>de los Reyes</b></p> | <p>Proceso selectivo para la<br/>Provisión, mediante acceso libre,<br/>de una plaza ITOP</p> <p>2023-RHSEL-06</p> | <p>Plantilla<br/>Respuestas<br/>Primer Ejercicio</p> <p>20/11/2024</p> |
|--|---|--|

- b) La organización, la cultura y la economía.  
**c) El territorio, la población y la organización.**
7. *Indique cuál de las siguientes afirmaciones sobre el ámbito de aplicación del régimen de organización de los municipios de gran población es incorrecta:*
- a) Municipios cuya población supere los 250.000 habitantes.  
b) Municipios capitales de provincia cuya población sea superior a los 175.000 habitantes.  
**c) Los municipios cuya población supere los 50.000 habitantes, que presenten circunstancias económicas, sociales, históricas o culturales especiales.**
8. *En la Ley del Procedimiento Administrativo Común de las Administraciones Públicas, en su artículo 45 relativo a la Publicación en cuanto a la eficacia del acto administrativo, ¿cuál de estas afirmaciones es incorrecta?*
- a) Una publicación surtirá los mismos efectos que una notificación cuando el acto tenga por destinatario a una pluralidad indeterminada de personas.  
**b) Los actos administrativos serán objeto de publicación en determinados casos.**  
c) Una publicación surtirá los mismos efectos que una notificación cuando se trate de actos integrantes de un procedimiento selectivo.
9. *Según el artículo 10 del Real Decreto Legislativo 5/2015, de 30 de octubre, por el que se aprueba el texto refundido de la Ley del Estatuto Básico del Empleado Público, para proceder al nombramiento de funcionarios interinos se debe dar algunas circunstancias, entre esta se encuentra:*
- a) La existencia de plazas vacantes, aunque sea posible su cobertura por funcionarios de carrera.  
b) El exceso o acumulación de tareas por plazo indefinido.  
**c) La sustitución transitoria de los titulares, durante el tiempo estrictamente necesario.**
10. *Según el artículo 6 del Real Decreto Legislativo 2/2004, de 5 de marzo, por el que se aprueba el texto refundido de la Ley Reguladora de las Haciendas Locales, cuál de los siguientes supuestos no es un principio de tributación local que debe ser respetado por los tributos que establezcan las entidades locales:*
- a) No someter a gravamen bienes situados, actividades desarrolladas, rendimientos originados ni gastos realizados fuera del territorio de la respectiva entidad.  
**b) No permitir la ordenación urbanística del territorio de la entidad local.**  
c) No gravar negocios realizados fuera del territorio de la entidad impositora.

|   |   |  |
|---|---|--|
|  | <p>Proceso selectivo para la<br/>Provisión, mediante acceso libre,<br/>de una plaza ITOP</p> <p>2023-RHSEL-06</p> | <p>Plantilla<br/>Respuestas<br/>Primer Ejercicio</p> <p>20/11/2024</p> |
|---|---|--|

11. Según la Ley de Contratos del Sector Público, indicar cuál de los siguientes procedimientos de adjudicación se utiliza cuando un único empresario, debido a razones técnicas o artísticas, puede ejecutar el contrato:

- a) **Procedimiento negociado sin publicidad.**
- b) Procedimiento restringido.
- c) Procedimiento de diálogo competitivo.

12. Según la Ley de Contratos del Sector Público, indicar cuál de los siguientes contratos requiere la elaboración de un proyecto técnico previo a su adjudicación:

- a) **Contrato de obras.**
- b) Contrato de servicios.
- c) Contrato de concesión de servicios.

13. La tala y trasplante de árboles, según la Ley del Suelo 9/2001 y su posterior modificación en la Ley 1/2020

- a) Son actuaciones sujetas a declaración responsable.
- b) Son actuaciones sujetas a régimen de comunicación.
- c) **Son actuaciones sujetas a licencia urbanística.**

14. Según la modificación Ley 1/2020 del Suelo de la Comunidad de Madrid, se consideran actuaciones sujetas a Declaración Responsable


- a) Los actos de parcelación y división de terrenos.
- b) **La agrupación de terrenos en cualquier tipo de suelo, salvo que formen parte de un proyecto de reparcelación.**
- c) Ambas respuestas son correctas.

15. Según la Ley del Suelo, cual es el objeto de un Plan General.

- a) La Clasificación del suelo.
- b) Establecer las Determinaciones de Ordenación Pormenorizada.
- c) **Ambas son correctas.**

16. Según la Ley del Suelo, cual es el instrumento técnico que tiene por objeto el diseño y la organización de las obras necesarias para la ejecución material de los elementos de las redes públicas de infraestructuras, equipamientos y servicios públicos de la ordenación estructurante en los Planes Generales y los Planes de Sectorización.

- a) Estudio de Detalle.
- b) Proyecto Básico de Infraestructuras.
- c) **Proyecto de Urbanización.**

|   |   |  |
|---|---|--|
|  | <p>Proceso selectivo para la<br/>Provisión, mediante acceso libre,<br/>de una plaza ITOP</p> <p>2023-RHSEL-06</p> | <p>Plantilla<br/>Respuestas<br/>Primer Ejercicio</p> <p>20/11/2024</p> |
|---|---|--|

17. Según la Ley del Suelo, cuál de los siguientes sistemas no se corresponde con la ejecución pública del planeamiento

- a) Expropiación.
- b) Compensación.**
- c) Ejecución Forzosa.

18. A efectos de la Ley 9/2017 de Contratos, se entiende como Presupuesto base de Licitación de un contrato, salvo disposición en contrario:

- a) El límite máximo de gasto que en virtud del contrato puede comprometer el órgano de contratación, incluido el IVA.**
- b) El presupuesto aprobado con carácter previo a la tramitación de un Acuerdo Marco, excluido el IVA.
- c) El presupuesto aprobado con carácter previo a la tramitación del contrato, incluido el IVA.

19.Cuál de las siguientes definiciones se corresponde con una prescripción técnica, a efectos de la Ley 9/2017 de Contratos


- a) Las reglas de elaboración del proyecto y cálculo, cuando se trate de contratos de obras.
- b) Los niveles de comportamiento ambiental y climático de un producto cuando se trate de contratos de suministro o servicios.
- c) Ambas respuestas son correctas.**

20. Los contratos de las Administraciones Públicas, según la Ley 9/2017 de Contratos, podrán modificarse durante su vigencia hasta un máximo de:

- a) Un veinte por ciento del precio inicial, en cualquiera de los casos y mediante justificación expresa.
- b) Un veinte por ciento del precio inicial, cuando en los pliegos de cláusulas administrativas particulares se hubiere advertido expresamente de esta posibilidad.**
- c) Un diez por ciento del precio inicial, cuando deviniera necesario añadir obras, suministros o servicios adicionales a los inicialmente contratados.

21. La duración de un acuerdo marco, según la Ley 9/2017 de contratos, no podrá exceder salvo casos excepcionales debidamente justificados, del siguiente plazo :

- a) Cuatro años.**
- b) Tres años.
- c) Dos años

|   |   |  |
|---|---|--|
|  | <p>Proceso selectivo para la<br/>Provisión, mediante acceso libre,<br/>de una plaza ITOP</p> <p>2023-RHSEL-06</p> | <p>Plantilla<br/>Respuestas<br/>Primer Ejercicio</p> <p>20/11/2024</p> |
|---|---|--|

22. Según la Ley 9/2017 de contratos, la duración de un contrato basado en un Acuerdo Marco no podrá exceder de:

- a) Un año a partir de la fecha final del acuerdo marco.
- b) Dos años a partir de la fecha final del acuerdo marco.
- c) **Es independiente del plazo del acuerdo marco.**

23. Cuál de las siguientes causas, son motivo de resolución del contrato de obras, según la Ley 9/2017 de contratos

- a) La suspensión de la iniciación de las obras por plazo superior a tres meses.
- b) La suspensión de las obras por plazo superior a seis meses por parte de la Administración.
- c) **La demora injustificada en la comprobación del replanteo.**

24. Según la Ley 9/2017 de contratos, en el contrato de suministros en el que la determinación del precio se realice mediante precios unitarios, se podrá incrementar el número de unidades a suministrar, sin que sea necesario un modificado, hasta el siguiente límite:

- a) **El 10 por ciento del precio del contrato.**
- b) El 15 por ciento del precio del contrato.
- c) El 20 por ciento del precio del contrato.

25. Identificar cuál de los siguientes supuestos no es compatible con la redacción de un Estudio Básico de Seguridad y Salud, siendo necesario un Estudio de Seguridad y Salud


- a) Presupuesto de ejecución por contrata igual a 350.000 €.
- b) Volumen de mano de obra estimada igual a 200 días de trabajo.
- c) **Duración estimada igual a 35 días laborables, con empleo simultáneo de 25 trabajadores.**

26. Indicar cuál de las siguientes acciones deberá realizarse en una obra, con antelación al resto acciones

- a) Firma del acta de replanteo.
- b) **Nombramiento del Coordinador de Seguridad y Salud.**
- c) Acta de aprobación del Plan de Seguridad y Salud.

27. Cuál de los siguientes informes, emitido por el Órgano ambiental, es preceptivo y determinante dentro de los procedimientos de Evaluación de Impacto Ambiental

- a) El Informe de Impacto Ambiental.
- b) La Declaración de Impacto Ambiental.

|   |   |  |
|---|---|--|
|  | <p>Proceso selectivo para la<br/>Provisión, mediante acceso libre,<br/>de una plaza ITOP</p> <p>2023-RHSEL-06</p> | <p>Plantilla<br/>Respuestas<br/>Primer Ejercicio</p> <p>20/11/2024</p> |
|---|---|--|

**c) Lo son ambos.**

28. Según la ordenanza de Publicidad de S.S. Reyes, los banderines, rótulos y anagramas con superficie inferior a 1 metro cuadrado y cuyo vuelo sea inferior a 15 cm, podrán situarse a partir de:

- a) 2.10 metros.
- b) 2.20 metros.**
- c) 2.30 metros.

29. El órgano competente deberá otorgar o denegar las licencias urbanísticas resolviendo los procedimientos conforme a los siguientes plazos:

- a) Dos meses en el procedimiento normal.
- b) Un mes en el procedimiento abreviado.
- c) Tres meses en el procedimiento normal.**

30. En la ejecución de un vado permanente en calles con separación de tránsitos, indicar cuál de las siguientes afirmaciones es correcta, según el PGOU de San Sebastián de los Reyes


- a) Deberán mantener por lo menos  $\frac{3}{4}$  del ancho de la acera al mismo nivel de rasantes antes de la ejecución del vado.**
- b) Deberán resolverse mediante rampa hasta la línea de fachada de la parcela, mediante rebaje de altura del bordillo.
- c) En el caso de no disponer de zona de aparcamiento en línea, se ejecutarán mediante rebaje de la altura de bordillo hasta una altura máxima de 2 cm y rampa hasta la línea de fachada de la parcela

31. En una calle con separación de tránsitos, cual es el ancho mínimo de las aceras según el PGOU de San Sebastián de los Reyes

- a) 1.50 metros.**
- b) 1.80 metros.
- c) 2.00 metros.

32. Las redes de alumbrado público en suelo urbano, según el PGOU de San Sebastián de los Reyes

- a) Podrán ser aéreas con cables adosados correctamente a las fachadas o tensados sobre apoyos.
- b) Serán subterráneas.**
- c) Ambas respuestas son correctas.

|   |   |  |
|---|---|--|
|  | <p>Proceso selectivo para la<br/>Provisión, mediante acceso libre,<br/>de una plaza ITOP</p> <p>2023-RHSEL-06</p> | <p>Plantilla<br/>Respuestas<br/>Primer Ejercicio</p> <p>20/11/2024</p> |
|---|---|--|

33. *Cuál será la profundidad mínima de las tuberías de la red de saneamiento, según el PGOU de San Sebastián de los Reyes*

- a) **0,75 metros en zonas peatonales y 1,20 metros en zonas de tránsito rodado.**
- b) 0,90 metros en zonas peatonales y 1,20 metros en zonas de tránsito rodado.
- c) 1,00 metros en zonas peatonales y 1,50 metros en zonas de tránsito rodado.

34. *Cuál será la distancia máxima entre pozos de registro consecutivos de la red de saneamiento, según el PGOU de San Sebastián de los Reyes*

- a) **50 metros.**
- b) 75 metros.
- c) 100 metros.

35. *Cuál de las siguientes medidas deberán ser incluidas al menos, en un plan de movilidad urbana sostenible*

- a) **Establecimiento de zona de baja emisiones.**
- b) Elaboración de un mapa local sectorizado con representación bianual de la huella de carbono.
- c) Elaboración de un mapa local sectorizado con representación de la huella sonora.


36. *Cuál de las siguientes actuaciones se integra dentro del Plan de Movilidad urbana sostenible de San Sebastián de los Reyes*

- a) Implementación de Red Calles 30.
- b) Creación de supermanzanas.
- c) **Ambas respuestas son correctas.**

37. *Según la Ley 37/2015 la zona de servidumbre de las carreteras del Estado está constituida por:*

- a) **Dos franjas de terreno a ambos lados de las mismas, delimitadas interiormente por la zona de dominio público y exteriormente por dos líneas paralelas a las aristas exteriores de la explanación, a una distancia de 25 metros en autopistas y autovías y de 8 metros en carreteras convencionales y carreteras multicarril, medidos horizontalmente desde las citadas aristas.**
- b) Dos franjas de terreno a ambos lados de las mismas, delimitadas interiormente por la zona de afección y exteriormente por dos líneas paralelas a las aristas exteriores de la explanación, a una distancia de 50 metros en autopistas y autovías y de 8 metros en carreteras convencionales y carreteras multicarril, medidos horizontalmente desde las citadas aristas.
- c) Una franja de terreno a cada lado de la vía de 8 metros de anchura en autopistas y autovías y de 3 metros en carreteras convencionales, carreteras multicarril y



|   |   |  |
|---|---|--|
|  | <p>Proceso selectivo para la<br/>Provisión, mediante acceso libre,<br/>de una plaza ITOP</p> <p>2023-RHSEL-06</p> | <p>Plantilla<br/>Respuestas<br/>Primer Ejercicio</p> <p>20/11/2024</p> |
|---|---|--|

vías de servicio, medidos horizontalmente desde la arista exterior de la explanación y perpendicularmente a dicha arista.

38. Según la Ley 3/1991, las carreteras de la Comunidad de Madrid se clasifican en:

- a) Red Básica y Red Complementaria.
- b) Red Principal, Red Local y Red Complementaria.
- c) Red Principal, Red Secundaria y Red Local.**

39. Cuáles de la siguiente relación de estados de consistencia de un suelo se definen según los Límites de Atterberg:

- a) Sólido, Semisólido, Plástico, Semilíquido.**
- b) Sólido, Adhesivo, Plástico.
- c) Sólido, Plástico, Líquido.

40. La capacidad portante de un suelo se determina con los ensayos:

- a) Ensayo CBR.**
- b) Ensayo de Equivalente de Arena.
- c) ambas son correctas.

41. La Norma de Firmes 6.1 IC clasifica los tipos de explanadas E1, E2, y E3 en función del resultado del :

- a) Ensayo de Deflexiones.
- b) Ensayo de carga con placa.**
- c) Ensayo CBR.


42. La Norma de Firmes 6.1 IC establece para la categoría de Suelo seleccionado para formación de explanadas:

- a) Espesor mínimo 25 cm.
- b) CBR  $\geq$  10.**
- c) CBR  $\geq$  5.

43. Según la Norma de Firmes 6.1-IC, que tipo de firme es aquel que está constituido por capas granulares no tratadas y por un pavimento bituminoso de espesor inferior a 15 cm:

- a) Firme Flexible.**
- b) Firme Semiflexible.
- c) Firme Semirrígido.



|   |   |  |
|---|---|--|
|  | <p>Proceso selectivo para la<br/>Provisión, mediante acceso libre,<br/>de una plaza ITOP</p> <p>2023-RHSEL-06</p> | <p>Plantilla<br/>Respuestas<br/>Primer Ejercicio</p> <p>20/11/2024</p> |
|---|---|--|

44. *La aplicación de una emulsión bituminosa sobre una capa de firme con ligante, previa a la colocación sobre ésta de una mezcla bituminosa, se denomina:*

- a) Riego de imprimación.
- b) Riego de adherencia.**
- c) Riego de curado.

45. *Cuál de los siguientes elementos es el más adecuado para pavimentar un vado:*

- a) Loseta hidráulica sobre capa de mortero y 15 cm de hormigón en capa de base.
- b) Baldosa hidráulica sobre capa de mortero y 25 cm de hormigón en capa de base.**
- c) Adoquín sobre una capa de arena de 12 cm.

46. *A que velocidad máxima se puede circular actualmente en una calle de coexistencia, según la DGT.*

- a) 20 km/hora salvo modificación en contra.**
- b) Entre 20 km/hora y 50 km/hora, en función del número de carriles de la vía.
- c) Las calles de coexistencia se han convertido en calles peatonales.

47. *En las calles con la velocidad de circulación limitada a 40 Km./h, cual es la longitud que deben tener las rampas de un paso peatonal sobreelevado.*

- a) 100 cm.
- b) 120 cm.
- c) 150 cm.**

48. *Las conducciones de abastecimiento de agua potable.*

- a) Discurren por la calzada preferentemente, enterradas y bajo los colectores de saneamiento.
- b) Discurren por la calzada, bajo las aceras o viales peatonales, enterradas y por encima de las conducciones de saneamiento.**
- c) Discurren por los viales peatonales, hormigonadas y por encima de los colectores de saneamiento.

49. *Se consideran servicios públicos municipales, entre otros.*

- a) Red de alcantarillado, red de riego, red de hidrantes, alumbrado público.**
- b) Red de Telecomunicaciones, red de abastecimiento de agua potable, red de suministro de gas.
- c) Ambas respuestas son correctas.

|   |   |  |
|---|---|--|
|  | <p>Proceso selectivo para la<br/>Provisión, mediante acceso libre,<br/>de una plaza ITOP</p> <p>2023-RHSEL-06</p> | <p>Plantilla<br/>Respuestas<br/>Primer Ejercicio</p> <p>20/11/2024</p> |
|---|---|--|

50. Según la Norma 5.2 IC, para el cálculo del caudal de proyecto que debe tenerse en cuenta para el dimensionamiento de una obra de drenaje transversal de carreteras, se debe considerar un periodo de retorno de:

- a) 25 años.
- b) 50 años.
- c) 100 años.**

51. Las obras menores de paso con luces superiores a 1 metro e inferiores a 3 metros, se denominan:

- a) Caños.
- b) Alcantarillas.**
- c) Tajeas.

52. A qué se denomina Intersección según la Norma 3.1 IC:

- a) Cualquier nudo en el que existe una concurrencia espacial de dos o más vías.
- b) Aquel tipo de nudo en el que todos los movimientos se realizan al mismo nivel.**
- c) Cualquier enlace en que pueden producirse movimientos a distinto nivel.

53. En una glorieta, la separación entre accesos medidos sobre el borde exterior de la calzada anular entre puntas de isletas será:


- a) Mayor o igual de 10 metros.
- b) Mayor o igual de 15 metros.
- c) Mayor o igual de 20 metros.**

54. Según la norma 3.1 IC, aunque tengan la apariencia de glorieta no funcionan como tal:

- a) Las glorietas cuyas entradas a la calzada anular están controladas por semáforos.
- b) Las glorietas partidas, cuya isleta central es atravesada por una calzada que sirve a los movimientos de paso entre dos viales opuestos, las cuales conforman un itinerario prioritario.
- c) Ninguna de las glorietas anteriores funciona como glorieta.**

55. Las señales para indicaciones de naturaleza turística, no monumental ni geográfica y en general para indicar los lugares de interés para el viajero como oficinas de turismo, aeropuertos, estaciones, hoteles, etc. según las Recomendaciones AIMPE serán de color:

- a) Azul.
- b) Amarillo.**

|   |   |  |
|---|---|--|
|  | <p>Proceso selectivo para la<br/>Provisión, mediante acceso libre,<br/>de una plaza ITOP</p> <p>2023-RHSEL-06</p> | <p>Plantilla<br/>Respuestas<br/>Primer Ejercicio</p> <p>20/11/2024</p> |
|---|---|--|

c) Gris.

56. *En zonas urbanas, donde se requiera colocar una señal de tráfico sobre las aceras o zonas destinadas a la circulación de peatones, deberemos tener una altura entre el borde inferior de la señal y la acera :*

- a) No inferior a 2,00 metros.
- b) Superior a 2,10 metros.
- c) No inferior a 2,20 metros.**

57. *Según la Nota de servicio 5/2014 sobre prescripciones y recomendaciones técnicas para la realización de estudios de tráfico de los Anteproyectos y Proyectos de carreteras, indicar cuál de las siguientes afirmaciones es incorrecta:*


- a) En los proyectos de nuevas carreteras o ampliación de existentes deberá comprobarse que el nivel de servicio en la hora de proyecto del año horizonte, es el que se establece en la Norma 3.1.IC Trazado de la Instrucción de Carreteras.
- b) El Manual de Capacidad define los niveles de servicio mediante uno o dos factores instrumentales que pueden medirse y que son los más representativos del estado de la circulación para el tipo de elemento de carretera que se esté estudiando.
- c) La variable básica para la determinación del nivel de servicio en autopistas y autovías es la velocidad.**

58. *En una calle que dispone de mediana con una anchura de un metro, los semáforos necesarios para regular un paso de peatones en dicha vía son:*

- a) Dos semáforos en total.**
- b) Cuatro en total, dos para cada sentido de circulación.
- c) No se requiere la instalación de semáforos.

59. *Indicar cuál de las siguientes definiciones se corresponde con el elemento de una cimentación denominado "encepado".*

- a) Zapata corrida bajo un muro que sirve para distribuir adecuadamente la carga sobre un suelo irregular.
- b) Pieza prismática que une las cabezas de un grupo de pilotes que trabajan conjuntamente, para enlazar con los pilares.**
- c) Tipo de viga que se ejecuta para contrarrestar el momento de vuelco de las zapatas descentradas.

|   |   |  |
|---|---|--|
|  | <p>Proceso selectivo para la<br/>Provisión, mediante acceso libre,<br/>de una plaza ITOP</p> <p>2023-RHSEL-06</p> | <p>Plantilla<br/>Respuestas<br/>Primer Ejercicio</p> <p>20/11/2024</p> |
|---|---|--|

60. Indicar cuál de las siguientes definiciones corresponden a distintos estados de consistencia del Hormigón fresco, en función del Ensayo de asentamiento mediante el cono de Abrams:

- a) Seca, Blanda, Líquida.
- b) Seca, Plástica, Fluida.
- c) **Todas son correctas.**

61. Los terrenos que lindan con los cauces, están sujetos a lo siguiente.:

- a) A una zona de servidumbre de 10 metros de anchura, para uso público que se regulará reglamentariamente.
- b) **A una zona de policía de 100 metros de anchura en la que se condicionará el uso del suelo y las actividades que se desarrollen.**
- c) Ambas respuestas son correctas.

62.Cuál de las siguientes opciones corresponde a funciones de los Organismos de Cuenca:

- a) Elevar al Gobierno, a través del Ministerio de Medio Ambiente, el Plan Hidrológico de la Cuenca.
- b) **La administración y control de los aprovechamientos de interés general o que afecten a más de una Comunidad Autónoma.**
- c) El otorgamiento de autorizaciones y concesiones referentes al dominio público hidráulico, relativas a las obras y actuaciones de interés general del Estado.

63. En un sistema de captación de aguas, que se denomina "Bocatoma".


- a) **Método de captación de agua superficial.**
- b) Método de captación de agua muy profunda.
- c) Elemento para control de la calidad del agua.

64. En una red de saneamiento, cuando debemos conectar dos tuberías con una diferencia de altura entre ambas de 0,60 metros, ejecutaremos:

- a) Un pozo de descarga.
- b) **Un pozo de resalto.**
- c) Una cámara de descarga.

65. En una red de saneamiento, se denomina acometida.

- a) Obra en la calzada o acera, para la conexión de un servicio de agua o saneamiento.
- b) **Tramo de tubería que va desde el pozo de arranque de una parcela hasta la red general.**

|   |   |  |
|---|---|--|
|  | <p>Proceso selectivo para la<br/>Provisión, mediante acceso libre,<br/>de una plaza ITOP</p> <p>2023-RHSEL-06</p> | <p>Plantilla<br/>Respuestas<br/>Primer Ejercicio</p> <p>20/11/2024</p> |
|---|---|--|

c) No es correcta ninguna de las respuestas anteriores.

66. *La pendiente estipulada para una acometida domiciliaria de saneamiento estará comprendida: (CTE HS5).*

- a) **Entre el 2% y el 4%.**
- b) Entre el 3% y el 6%, dependiendo del material.
- c) Entre 1% y el 5%, dependiendo de la profundidad del colector principal al cual se acomete.

67. *Cuando es recomendable la reparación de un colector mediante el sistema de “Manga o encamisado”.*

- a) Cuando existen diferentes roturas en el tubo de saneamiento.
- b) **Cuando no es recomendable el cambio del tubo de saneamiento a cielo abierto.**
- c) Cuando no son factores determinantes en la reparación, la reducción de plazos y el coste.

68. *Un proceso de coagulación – floculación corresponde a:*

- a) Un nivel de pretratamiento de aguas residuales.
- b) Un nivel de tratamiento primario de aguas residuales.
- c) **Un nivel de tratamiento secundario de aguas residuales.**

69. *Cuál de los siguientes se considera un vertido indirecto de aguas residuales.*


- a) Aquel que se realiza mediante filtración a través del suelo o del subsuelo.
- b) Aquel que se realiza a través de redes de colectores de recogida de aguas residuales.
- c) **Ambas respuestas son correctas.**

70. *Las autorizaciones de vertidos industriales se revisarán y, en su caso, se adaptarán:*

- a) **Cada cinco años.**
- b) Cada cuatro años.
- c) Cada tres años.

71. *Cuál de las siguientes características se corresponde con una red de agua regenerada:*

- a) **Las tuberías y accesorios serán de color violeta.**
- b) En las zonas de riego se emplearán aspersores fijos y nunca de tipo emergente.
- c) Ninguna de las respuestas es correcta.

|   |   |  |
|---|---|--|
|  | <p>Proceso selectivo para la<br/>Provisión, mediante acceso libre,<br/>de una plaza ITOP</p> <p>2023-RHSEL-06</p> | <p>Plantilla<br/>Respuestas<br/>Primer Ejercicio</p> <p>20/11/2024</p> |
|---|---|--|

72. *No se consideran usos admitidos para el agua regenerada:*

- a) **Su utilización en fuentes y láminas ornamentales en espacios públicos o interiores de edificios públicos.**
- b) Recarga de acuíferos.
- c) Riego de cultivos.

73. *La altura del asiento de un banco de mobiliario urbano, según la Orden TMA/851/2021 debe estar entre:*

- a) 30-35 cm.
- b) **40-45 cm.**
- c) 45-50 cm.

74. *La altura de un bolardo de mobiliario urbano, según la Orden TMA/851/2021 deberá ser:*

- a) **Entre 0,75-1.00 m.**
- b) Máximo de 0,75 m.
- c) Mínimo de 1,00 m.

75. *En cuál de los siguientes casos es obligatorio colocar una franja guía de pavimento táctil indicador, según la Orden TMA/851/2021.*

- a) **Previo a su inicio y en ambos extremos en rampas o escaleras.**
- b) Para indicar paradas de taxis, según el número de vehículos estacionados.
- c) Vados de vehículos, en ambos extremos y perpendiculares a la dirección de la marcha.